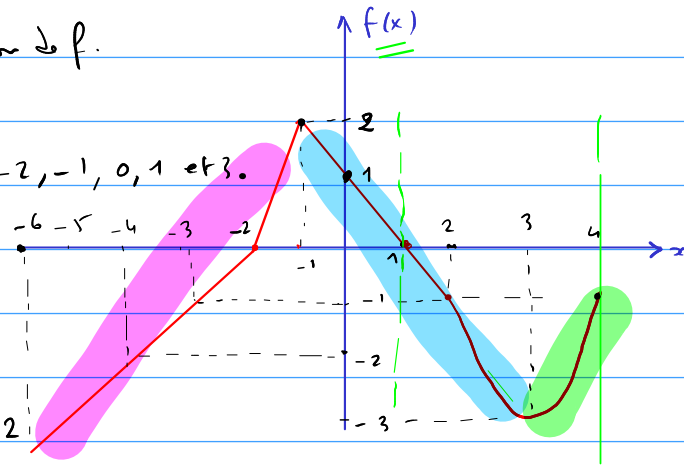


① Déterminer le domaine de définition de f .

$$D_f = [-6, 4]$$

② Déterminer les images de $-4, -2, -1, 0, 1$ et 3 .

x	-4	-2	-1	0	1	3
$f(x)$	-2	0	2	1	0	-3



③ Antécédents de $-3, -1, 0, 2$

les antécédents de -3 sont -6 et 3
 " " -1 " -3 et 2
 " " 0 " -2 et 1

l'antécédent de 2 est -1

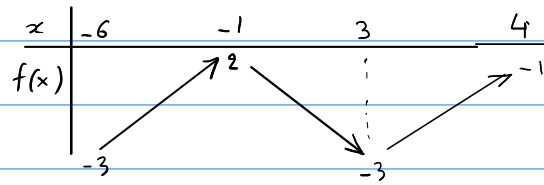
④ a) f admet-elle un maximum sur $[-4, 4]$. Si oui, lequel?

Oui le maximum de f sur $[-4, 4]$ est 2 . Il est atteint en $x = -1$
 $(f(-1) = 2)$

b) et sur $[1, 4]$

Oui le maximum de f sur $[1, 4]$ est 0 . et ma. $f(1) = 0$

⑤ Tableau de variation de f .



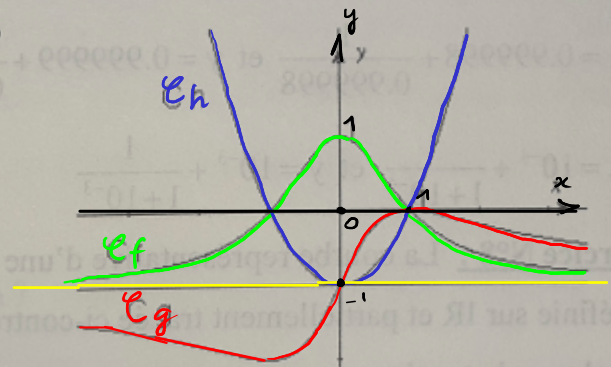
Exercice N°4: 1°) a) Déterminer les images de 0 et 1 , par f , par g et par h .

b) Déterminer les antécédents de 0 et -1 , par f , par g et par h éventuels (s'ils existent)

2°) Résoudre graphiquement les inéquations :

a) $f(x) \leq 0, g(x) > -1$ et $h(x) \leq 0$.

b) $f(x) \geq g(x), g(x) > h(x)$ et $f(x) \leq h(x)$.



① a) $f(0) = 1, f(1) = 0$
 $g(0) = -1, g(1) = 0$
 $h(0) = -1, h(1) = 0$

- b) • Les antécédents par f de 0 sont -1 et 1
 -1 n'a pas d'antécédent par f .
- les antécédents de 0 par h sont -1 et 1
 l'antécédent de -1 par h est 0
- l'antécédent de 0 par g est 1
 l'antécédent de -1 par g est 0

② a) $f(x) \leq 0$ $S_{\mathbb{R}} =]-\infty, -1] \cup [1, +\infty[$

$g(x) > -1$ $S_{\mathbb{R}} =]0, +\infty[$

$h(x) \leq 0$ $S_{\mathbb{R}} = [-1, 1]$

- b) • $f(x) \geq g(x)$: \mathcal{E}_f est au dessus de \mathcal{E}_g

$S_{\mathbb{R}} =]-\infty, 1]$

dessus فوق
 dessous تحت

- $g(x) > h(x)$

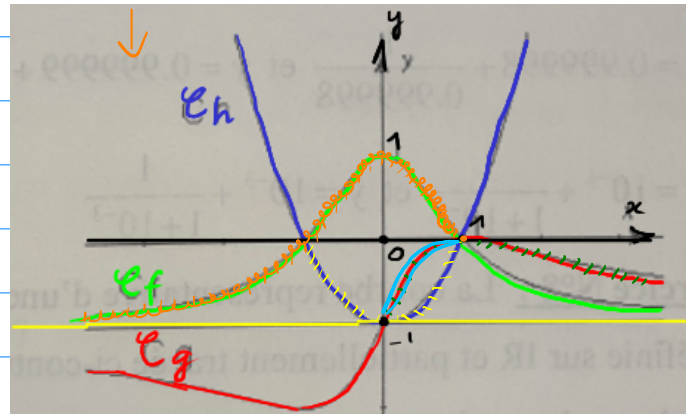
les solutions de cette inéquation
 sont les abscisses des points de \mathcal{E}_g qui
 son au dessus de \mathcal{E}_h

$S_{\mathbb{R}} =]0, 1[$

- $f(x) \leq h(x)$

\mathcal{E}_f est au dessous de \mathcal{E}_h

$S_{\mathbb{R}} =]-\infty, -1] \cup [1, +\infty[$



Exercice N°5 :

La courbe représentative d'une fonction **paire** f définie sur $[-5;5]$ est partiellement tracée ci-contre.

1) Achever le tracé.

2) a) Déterminer $f(0)$; $f(2)$

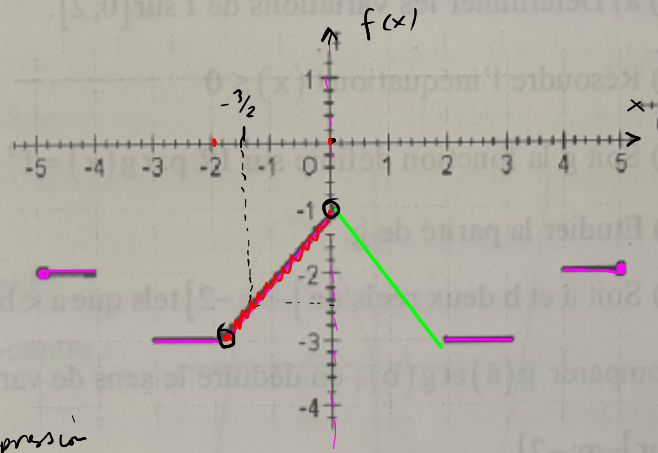
b) Donner une valeur approchée de $f\left(-\frac{3}{2}\right)$

3) a) Exprimer $f(x)$ en fonction de x pour $x \in [-2;0]$

b) En déduire les valeurs exactes de $f\left(-\frac{3}{2}\right)$ et $f\left(\frac{3}{2}\right)$

c) Résoudre graphiquement $f(x) > -2$.

symétrique par rapport à $(0, j)$



2) a) $f(0) = -1$; $f(2) = -3$

b) $f\left(-\frac{3}{2}\right) = f(-1,5) \approx -2,1$
valeur approchée = تقريباً

3) a) Sur $[-2,0]$ f est une fonction affine.

$$\rightarrow f(x) = ax + b \quad \text{où} \quad a = \frac{y_2 - y_1}{x_2 - x_1} \quad b = y_1 - ax$$

x	0	-2
$y = f(x)$	-1	-3

$$a = \frac{(-1) - (-3)}{0 - (-2)} = \frac{-1 + 3}{2} = 1$$

$$b = y_1 - ax_1 = (-1) - 1 \times 0 = -1$$

d'où $f(x) = x - 1$ sur $[-2,0]$

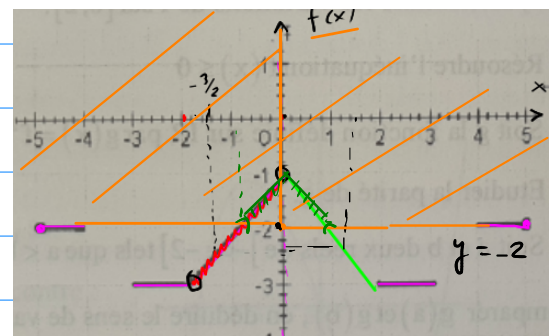
b) $-\frac{3}{2} \in [-2,0]$ donc

$$f\left(-\frac{3}{2}\right) = -\frac{3}{2} - 1 = -\frac{3}{2} - \frac{2}{2} = \frac{-5}{2} = -2,5$$

f est pair $\Rightarrow f(-x) = f(x)$

$$\Rightarrow f\left(-\frac{3}{2}\right) = f\left(\frac{3}{2}\right)$$

$$\Rightarrow f\left(\frac{3}{2}\right) = -2,5$$



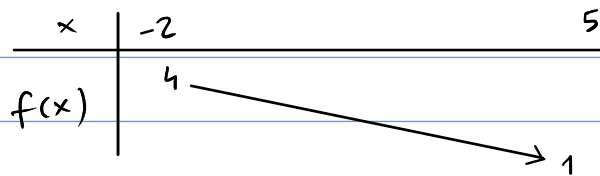
$$f(-1) = -2$$

$$f(1) = -2$$

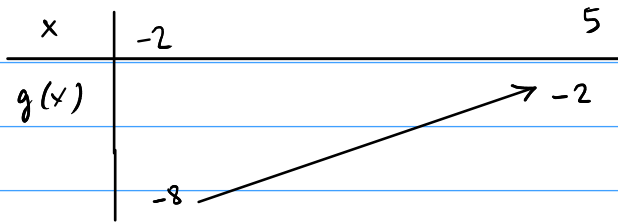
c) $f(x) > -2$

Les solutions de cette inéquation sont les abscisses des points de \mathcal{C}_f qui sont au dessus de la droite $y = -2$ d'où $S_{[-5,5]} =]-1,1[$

Exercice :

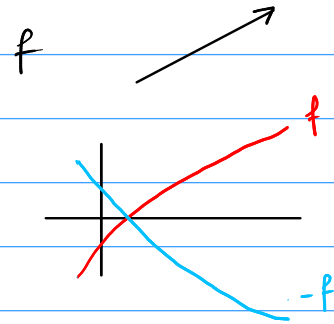


① $g(x) = -2 f(x)$. Déterminer les variations de g sur $[-2, 5]$



$$g(-2) = -2 f(-2) = -2 \times 4 = -8$$

$$g(5) = -2 f(5) = -2 \times 1 = -2$$



② Montre que g est bornée.

D'après le T.V de g :

$$-8 \leq g(x) \leq -2$$

Donc g est bornée.